

**Муниципальное бюджетное общеобразовательное учреждение
«Средняя общеобразовательная школа № 15 имени Героя Советского
Союза Василия Михайловича Михайлова»**

РАССМОТРЕНО

на заседании методического
объединения

Протокол № 1 от 28.08.2023г.

Руководитель ШМО:

_____ Бочкарева Т.Г.

УТВЕРЖДЕНО

Директор МБОУ СОШ №15

_____ Сюрсина Н.Н.

Приказ № 230-ос

от «31 » 08 2023 г.

РАБОЧАЯ ПРОГРАММА

(ID 3065171)

учебного курса «Геометрия»

для обучающихся 7-9 классов

Разработчик программы: Велькер Татьяна Михайловна,
учитель математики МБОУ СОШ № 15

**город Воткинск
2023-2024 учебный год**

ПОЯСНИТЕЛЬНАЯ ЗАПИСКА

Геометрия как один из основных разделов школьной математики, имеющий своей целью обеспечить изучение свойств и размеров фигур, их отношений и взаимное расположение, опирается на логическую, доказательную линию. Ценность изучения геометрии на уровне основного общего образования заключается в том, что обучающийся учится проводить доказательные рассуждения, строить логические умозаключения, доказывать истинные утверждения и строить контрпримеры к ложным, проводить рассуждения «от противного», отличать свойства от признаков, формулировать обратные утверждения.

Второй целью изучения геометрии является использование её как инструмента при решении как математических, так и практических задач, встречающихся в реальной жизни. Обучающийся должен научиться определить геометрическую фигуру, описать словами данный чертёж или рисунок, найти площадь земельного участка, рассчитать необходимую длину оптоволоконного кабеля или требуемые размеры гаража для автомобиля. Этому соответствует вторая, вычислительная линия в изучении геометрии. При решении задач практического характера обучающийся учится строить математические модели реальных жизненных ситуаций, проводить вычисления и оценивать адекватность полученного результата.

Крайне важно подчёркивать связи геометрии с другими учебными предметами, мотивировать использовать определения геометрических фигур и понятий, демонстрировать применение полученных умений в физике и технике. Эти связи наиболее ярко видны в темах «Векторы», «Тригонометрические соотношения», «Метод координат» и «Теорема Пифагора».

Учебный курс «Геометрия» включает следующие основные разделы содержания: «Геометрические фигуры и их свойства», «Измерение геометрических величин», «Декартовы координаты на плоскости», «Векторы», «Движения плоскости», «Преобразования подобия».

Данная программа реализуется на основе УМК «Геометрия». Данный УМК включает в себя (учебник) Атанасян Л.С., Бутузов В.Ф. и др. «Геометрия 7-9 класс» (издательство «Просвещение» 2010 год).

На изучение учебного курса «Геометрия» отводится 204 часа: в 7 классе – 68 часов (2 часа в неделю), в 8 классе – 68 часов (2 часа в неделю), в 9 классе – 68 часов (2 часа в неделю)

СОДЕРЖАНИЕ ОБУЧЕНИЯ

7 КЛАСС

Начальные понятия геометрии. Точка, прямая, отрезок, луч. Угол. Виды углов. Вертикальные и смежные углы. Биссектриса угла. Ломаная, многоугольник. Параллельность и перпендикулярность прямых.

Симметричные фигуры. Основные свойства осевой симметрии. Примеры симметрии в окружающем мире.

Основные построения с помощью циркуля и линейки. Треугольник. Высота, медиана, биссектриса, их свойства.

Равнобедренный и равносторонний треугольники. Неравенство треугольника.

Свойства и признаки равнобедренного треугольника. Признаки равенства треугольников.

Свойства и признаки параллельных прямых. Сумма углов треугольника. Внешние углы треугольника.

Прямоугольный треугольник. Свойство медианы прямоугольного треугольника, проведённой к гипотенузе. Признаки равенства прямоугольных треугольников. Прямоугольный треугольник с углом в 30° .

Неравенства в геометрии: неравенство треугольника, неравенство о длине ломаной, теорема о большем угле и большей стороне треугольника. Перпендикуляр и наклонная.

Геометрическое место точек. Биссектриса угла и серединный перпендикуляр к отрезку как геометрические места точек.

Окружность и круг, хорда и диаметр, их свойства. Взаимное расположение окружности и прямой. Касательная и секущая к окружности. Окружность, вписанная в угол. Вписанная и описанная окружности треугольника.

8 КЛАСС

Четырёхугольники. Параллелограмм, его признаки и свойства. Частные случаи параллелограммов (прямоугольник, ромб, квадрат), их признаки и свойства. Трапеция, равнобокая трапеция, её свойства и признаки. Прямоугольная трапеция.

Метод удвоения медианы. Центральная симметрия. Теорема Фалеса и теорема о пропорциональных отрезках.

Средние линии треугольника и трапеции. Центр масс треугольника.

Подобие треугольников, коэффициент подобия. Признаки подобия треугольников. Применение подобия при решении практических задач.

Свойства площадей геометрических фигур. Формулы для площади треугольника, параллелограмма, ромба и трапеции. Отношение площадей подобных фигур.

Вычисление площадей треугольников и многоугольников на клетчатой бумаге.

Теорема Пифагора. Применение теоремы Пифагора при решении практических задач.

Синус, косинус, тангенс острого угла прямоугольного треугольника. Основное тригонометрическое тождество. Тригонометрические функции углов в 30 , 45 и 60° .

Вписанные и центральные углы, угол между касательной и хордой. Углы между хордами и секущими. Вписанные и описанные четырёхугольники. Взаимное расположение двух окружностей. Касание окружностей. Общие касательные к двум окружностям.

9 КЛАСС

Синус, косинус, тангенс углов от 0 до 180° . Основное тригонометрическое тождество. Формулы приведения.

Решение треугольников. Теорема косинусов и теорема синусов. Решение практических задач с использованием теоремы косинусов и теоремы синусов.

Преобразование подобия. Подобие соответственных элементов.

Теорема о произведении отрезков хорд, теоремы о произведении отрезков секущих, теорема о квадрате касательной.

Вектор, длина (модуль) вектора, сонаправленные векторы, противоположно направленные векторы, коллинеарность векторов, равенство векторов, операции над векторами. Разложение вектора по двум неколлинеарным векторам. Координаты вектора. Скалярное произведение векторов, применение для нахождения длин и углов.

Декартовы координаты на плоскости. Уравнения прямой и окружности в координатах, пересечение окружностей и прямых. Метод координат и его применение.

Правильные многоугольники. Длина окружности. Градусная и радианная мера угла, вычисление длин дуг окружностей. Площадь круга, сектора, сегмента.

Движения плоскости и внутренние симметрии фигур (элементарные представления). Параллельный перенос. Поворот.

ПЛАНИРУЕМЫЕ РЕЗУЛЬТАТЫ ОСВОЕНИЯ ПРОГРАММЫ УЧЕБНОГО КУРСА «ГЕОМЕТРИЯ» НА УРОВНЕ ОСНОВНОГО ОБЩЕГО ОБРАЗОВАНИЯ

ЛИЧНОСТНЫЕ РЕЗУЛЬТАТЫ

Личностные результаты освоения программы учебного курса «Геометрия» характеризуются:

1) патриотическое воспитание:

проявлением интереса к прошлому и настоящему российской математики, ценностным отношением к достижениям российских математиков и российской математической школы, к использованию этих достижений в других науках и прикладных сферах;

2) гражданское и духовно-нравственное воспитание:

готовностью к выполнению обязанностей гражданина и реализации его прав, представлением о математических основах функционирования различных структур, явлений, процедур гражданского общества (например, выборы, опросы), готовностью к обсуждению этических проблем, связанных с практическим применением достижений науки, осознанием важности морально-этических принципов в деятельности учёного;

3) трудовое воспитание:

установкой на активное участие в решении практических задач математической направленности, осознанием важности математического образования на протяжении всей жизни для успешной профессиональной деятельности и развитием необходимых умений, осознанным выбором и построением индивидуальной траектории образования и жизненных планов с учётом личных интересов и общественных потребностей;

4) эстетическое воспитание:

способностью к эмоциональному и эстетическому восприятию математических объектов, задач, решений, рассуждений, умению видеть математические закономерности в искусстве;

5) ценности научного познания:

ориентацией в деятельности на современную систему научных представлений об основных закономерностях развития человека, природы и общества, пониманием математической науки как сферы человеческой деятельности, этапов её развития и значимости для развития цивилизации, овладением языком математики и математической культурой как средством познания мира, овладением простейшими навыками исследовательской деятельности;

б) физическое воспитание, формирование культуры здоровья и эмоционального благополучия:

готовностью применять математические знания в интересах своего здоровья, ведения здорового образа жизни (здоровое питание, сбалансированный режим занятий и отдыха, регулярная физическая активность), сформированностью навыка рефлексии, признанием своего права на ошибку и такого же права другого человека;

7) экологическое воспитание:

ориентацией на применение математических знаний для решения задач в области сохранности окружающей среды, планирования поступков и оценки их возможных последствий для окружающей среды, осознанием глобального характера экологических проблем и путей их решения;

8) адаптация к изменяющимся условиям социальной и природной среды:

готовностью к действиям в условиях неопределённости, повышению уровня своей компетентности через практическую деятельность, в том числе умение учиться у других людей, приобретать в совместной деятельности новые знания, навыки и компетенции из опыта других;

необходимостью в формировании новых знаний, в том числе формулировать идеи, понятия, гипотезы об объектах и явлениях, в том числе ранее неизвестных, осознавать дефициты собственных знаний и компетентностей, планировать своё развитие;

способностью осознавать стрессовую ситуацию, воспринимать стрессовую ситуацию как вызов, требующий контрмер, корректировать принимаемые решения и действия, формулировать и оценивать риски и последствия, формировать опыт.

МЕТАПРЕДМЕТНЫЕ РЕЗУЛЬТАТЫ

Познавательные универсальные учебные действия

Базовые логические действия:

- выявлять и характеризовать существенные признаки математических объектов, понятий, отношений между понятиями, формулировать определения понятий, устанавливать существенный признак классификации, основания для обобщения и сравнения, критерии проводимого анализа;
- воспринимать, формулировать и преобразовывать суждения: утвердительные и отрицательные, единичные, частные и общие, условные;

- выявлять математические закономерности, взаимосвязи и противоречия в фактах, данных, наблюдениях и утверждениях, предлагать критерии для выявления закономерностей и противоречий;
- делать выводы с использованием законов логики, дедуктивных и индуктивных умозаключений, умозаключений по аналогии;
- разбирать доказательства математических утверждений (прямые и от противного), проводить самостоятельно несложные доказательства математических фактов, выстраивать аргументацию, приводить примеры и контрпримеры, обосновывать собственные рассуждения;
- выбирать способ решения учебной задачи (сравнивать несколько вариантов решения, выбирать наиболее подходящий с учётом самостоятельно выделенных критериев).

Базовые исследовательские действия:

- использовать вопросы как исследовательский инструмент познания, формулировать вопросы, фиксирующие противоречие, проблему, самостоятельно устанавливать искомое и данное, формировать гипотезу, аргументировать свою позицию, мнение;
- проводить по самостоятельно составленному плану несложный эксперимент, небольшое исследование по установлению особенностей математического объекта, зависимостей объектов между собой;
- самостоятельно формулировать обобщения и выводы по результатам проведённого наблюдения, исследования, оценивать достоверность полученных результатов, выводов и обобщений;
- прогнозировать возможное развитие процесса, а также выдвигать предположения о его развитии в новых условиях.

Работа с информацией:

- выявлять недостаточность и избыточность информации, данных, необходимых для решения задачи;
- выбирать, анализировать, систематизировать и интерпретировать информацию различных видов и форм представления;
- выбирать форму представления информации и иллюстрировать решаемые задачи схемами, диаграммами, иной графикой и их комбинациями;
- оценивать надёжность информации по критериям, предложенным учителем или сформулированным самостоятельно.

Коммуникативные универсальные учебные действия:

- воспринимать и формулировать суждения в соответствии с условиями и целями общения, ясно, точно, грамотно выражать свою точку зрения

- в устных и письменных текстах, давать пояснения по ходу решения задачи, комментировать полученный результат;
- в ходе обсуждения задавать вопросы по существу обсуждаемой темы, проблемы, решаемой задачи, высказывать идеи, нацеленные на поиск решения, сопоставлять свои суждения с суждениями других участников диалога, обнаруживать различие и сходство позиций, в корректной форме формулировать разногласия, свои возражения;
 - представлять результаты решения задачи, эксперимента, исследования, проекта, самостоятельно выбирать формат выступления с учётом задач презентации и особенностей аудитории;
 - понимать и использовать преимущества командной и индивидуальной работы при решении учебных математических задач;
 - принимать цель совместной деятельности, планировать организацию совместной работы, распределять виды работ, договариваться, обсуждать процесс и результат работы, обобщать мнения нескольких людей;
 - участвовать в групповых формах работы (обсуждения, обмен мнениями, мозговые штурмы и другие), выполнять свою часть работы и координировать свои действия с другими членами команды, оценивать качество своего вклада в общий продукт по критериям, сформулированным участниками взаимодействия.

Регулятивные универсальные учебные действия

Самоорганизация:

- самостоятельно составлять план, алгоритм решения задачи (или его часть), выбирать способ решения с учётом имеющихся ресурсов и собственных возможностей, аргументировать и корректировать варианты решений с учётом новой информации.

Самоконтроль, эмоциональный интеллект:

- владеть способами самопроверки, самоконтроля процесса и результата решения математической задачи;
- предвидеть трудности, которые могут возникнуть при решении задачи, вносить коррективы в деятельность на основе новых обстоятельств, найденных ошибок, выявленных трудностей;
- оценивать соответствие результата деятельности поставленной цели и условиям, объяснять причины достижения или недостижения цели, находить ошибку, давать оценку приобретённому опыту.

ПРЕДМЕТНЫЕ РЕЗУЛЬТАТЫ

К концу обучения в 7 классе обучающийся получит следующие предметные результаты:

Распознавать изученные геометрические фигуры, определять их взаимное расположение, изображать геометрические фигуры, выполнять чертежи по условию задачи. Измерять линейные и угловые величины. Решать задачи на вычисление длин отрезков и величин углов.

Делать грубую оценку линейных и угловых величин предметов в реальной жизни, размеров природных объектов. Различать размеры этих объектов по порядку величины.

Строить чертежи к геометрическим задачам.

Пользоваться признаками равенства треугольников, использовать признаки и свойства равнобедренных треугольников при решении задач.

Проводить логические рассуждения с использованием геометрических теорем.

Пользоваться признаками равенства прямоугольных треугольников, свойством медианы, проведённой к гипотенузе прямоугольного треугольника, в решении геометрических задач.

Определять параллельность прямых с помощью углов, которые образует с ними секущая. Определять параллельность прямых с помощью равенства расстояний от точек одной прямой до точек другой прямой.

Решать задачи на клетчатой бумаге.

Проводить вычисления и находить числовые и буквенные значения углов в геометрических задачах с использованием суммы углов треугольников и многоугольников, свойств углов, образованных при пересечении двух параллельных прямых секущей. Решать практические задачи на нахождение углов.

Владеть понятием геометрического места точек. Уметь определять биссектрису угла и серединный перпендикуляр к отрезку как геометрические места точек.

Формулировать определения окружности и круга, хорды и диаметра окружности, пользоваться их свойствами. Уметь применять эти свойства при решении задач.

Владеть понятием описанной около треугольника окружности, уметь находить её центр. Пользоваться фактами о том, что биссектрисы углов треугольника пересекаются в одной точке, и о том, что серединные перпендикуляры к сторонам треугольника пересекаются в одной точке.

Владеть понятием касательной к окружности, пользоваться теоремой о перпендикулярности касательной и радиуса, проведённого к точке касания.

Пользоваться простейшими геометрическими неравенствами, понимать их практический смысл.

Проводить основные геометрические построения с помощью циркуля и линейки.

К концу обучения **в 8 классе** обучающийся получит следующие предметные результаты:

Распознавать основные виды четырёхугольников, их элементы, пользоваться их свойствами при решении геометрических задач.

Применять свойства точки пересечения медиан треугольника (центра масс) в решении задач.

Владеть понятием средней линии треугольника и трапеции, применять их свойства при решении геометрических задач. Пользоваться теоремой Фалеса и теоремой о пропорциональных отрезках, применять их для решения практических задач.

Применять признаки подобия треугольников в решении геометрических задач.

Пользоваться теоремой Пифагора для решения геометрических и практических задач. Строить математическую модель в практических задачах, самостоятельно делать чертёж и находить соответствующие длины.

Владеть понятиями синуса, косинуса и тангенса острого угла прямоугольного треугольника. Пользоваться этими понятиями для решения практических задач.

Вычислять (различными способами) площадь треугольника и площади многоугольных фигур (пользуясь, где необходимо, калькулятором). Применять полученные умения в практических задачах.

Владеть понятиями вписанного и центрального угла, использовать теоремы о вписанных углах, углах между хордами (секущими) и угле между касательной и хордой при решении геометрических задач.

Владеть понятием описанного четырёхугольника, применять свойства описанного четырёхугольника при решении задач.

Применять полученные знания на практике – строить математические модели для задач реальной жизни и проводить соответствующие вычисления с применением подобия и тригонометрии (пользуясь, где необходимо, калькулятором).

К концу обучения **в 9 классе** обучающийся получит следующие предметные результаты:

Знать тригонометрические функции острых углов, находить с их помощью различные элементы прямоугольного треугольника («решение

прямоугольных треугольников»). Находить (с помощью калькулятора) длины и углы для нетабличных значений.

Пользоваться формулами приведения и основным тригонометрическим тождеством для нахождения соотношений между тригонометрическими величинами.

Использовать теоремы синусов и косинусов для нахождения различных элементов треугольника («решение треугольников»), применять их при решении геометрических задач.

Владеть понятиями преобразования подобия, соответственных элементов подобных фигур. Пользоваться свойствами подобия произвольных фигур, уметь вычислять длины и находить углы у подобных фигур. Применять свойства подобия в практических задачах. Уметь приводить примеры подобных фигур в окружающем мире.

Пользоваться теоремами о произведении отрезков хорд, о произведении отрезков секущих, о квадрате касательной.

Пользоваться векторами, понимать их геометрический и физический смысл, применять их в решении геометрических и физических задач. Применять скалярное произведение векторов для нахождения длин и углов.

Пользоваться методом координат на плоскости, применять его в решении геометрических и практических задач.

Владеть понятиями правильного многоугольника, длины окружности, длины дуги окружности и радианной меры угла, уметь вычислять площадь круга и его частей. Применять полученные умения в практических задачах.

Находить оси (или центры) симметрии фигур, применять движения плоскости в простейших случаях.

Применять полученные знания на практике – строить математические модели для задач реальной жизни и проводить соответствующие вычисления с применением подобия и тригонометрических функций (пользуясь, где необходимо, калькулятором).

ТЕМАТИЧЕСКОЕ ПЛАНИРОВАНИЕ

7 КЛАСС

№ п/п	Наименование разделов и тем программы	Количество часов			Электронные (цифровые) образовательные ресурсы	Реализация воспитательного потенциала с учетом РП воспитания
		Всего	Контрольные работы	Практические работы		
1	Простейшие геометрические фигуры и их свойства. Измерение геометрических величин	14			Библиотека ЦОК https://m.edsoo.ru/7f415e2e	Урок-практика «Измерение на местности». Историческая справка. Создание смарт-тетради
2	Треугольники	22	1		Библиотека ЦОК https://m.edsoo.ru/7f415e2e	Историческая справка. Урок-исследование «Виды треугольников» Своя игра. Создание смарт-тетради
3	Параллельные прямые, сумма углов треугольника	14	1		Библиотека ЦОК https://m.edsoo.ru/7f415e2e	Математический диктант-викторина. Историческая справка. Создание смарт-тетради

4	Окружность и круг. Геометрические построения	14	1		Библиотека ЦОК https://m.edsoo.ru/7f415e2e	Исследовательская работа « Окружность». Создание смарт- тетради
5	Повторение, обобщение знаний	4	1		Библиотека ЦОК https://m.edsoo.ru/7f415e2e	Математическая викторина.
ОБЩЕЕ КОЛИЧЕСТВО ЧАСОВ ПО ПРОГРАММЕ		68	4	0		

8 КЛАСС

№ п/п	Наименование разделов и тем программы	Количество часов			Электронные (цифровые) образовательные ресурсы	Реализация воспитательного потенциала с учетом РП воспитания
		Всего	Контрольные работы	Практические работы		
1	Четырёхугольники	12	1		Библиотека ЦОК https://m.edsoo.ru/7f417e18	Создание смарт-тетради. Своя -игра «Четырёхугольники»
2	Теорема Фалеса и теорема о пропорциональных отрезках, подобные треугольники	15	1		Библиотека ЦОК https://m.edsoo.ru/7f417e18	Создание смарт-тетради. Историческая справка : Фалес-биография.
3	Площадь. Нахождение площадей треугольников и многоугольных фигур. Площади подобных фигур	14	1		Библиотека ЦОК https://m.edsoo.ru/7f417e18	Создание смарт-тетради. Исследование площадей. Историческое нахождение площадей. Литературные примеры
4	Теорема Пифагора и начала тригонометрии	10	1		Библиотека ЦОК https://m.edsoo.ru/7f417e18	Исследование теоремы Пифагора. Пифагоровы тройки. Создание смарт-тетради.
5	Углы в окружности.	13	1		Библиотека ЦОК	Создание смарт-

	Вписанные и описанные четырехугольники. Касательные к окружности. Касание окружностей				https://m.edsoo.ru/7f417e18	тетради. История открытия. Литературные примеры
6	Повторение, обобщение знаний	4	1		Библиотека ЦОК https://m.edsoo.ru/7f417e18	Математическая игра
ОБЩЕЕ КОЛИЧЕСТВО ЧАСОВ ПО ПРОГРАММЕ		68	6	0		

9 КЛАСС

№ п/п	Наименование разделов и тем программы	Количество часов			Электронные (цифровые) образовательные ресурсы	Реализация воспитательного потенциала с учетом РП воспитания
		Всего	Контрольные работы	Практические работы		
1	Тригонометрия. Теоремы косинусов и синусов. Решение треугольников	16	1		Библиотека ЦОК https://m.edsoo.ru/7f41a12c	Создание смарт-тетради; История открытия
2	Преобразование подобия. Метрические соотношения в окружности	10	1		Библиотека ЦОК https://m.edsoo.ru/7f41a12c	Создание смарт-тетради; Исследование метрических соотношений
3	Векторы	12	1		Библиотека ЦОК https://m.edsoo.ru/7f41a12c	Создание смарт-тетради. Историческая справка.
4	Декартовы координаты на плоскости	9	1		Библиотека ЦОК https://m.edsoo.ru/7f41a12c	Историческая справка- Декарт. Исследование на плоскости
5	Правильные многоугольники. Длина окружности и площадь круга. Вычисление площадей	8			Библиотека ЦОК https://m.edsoo.ru/7f41a12c	Создание смарт-тетради. Проекты «Виды многоугольников: признаки и свойства»
6	Движения плоскости	6			Библиотека ЦОК	Исследование:

					https://m.edsoo.ru/7f41a12c	Виды симметрии
7	Повторение, обобщение, систематизация знаний	7	2		Библиотека ЦОК https://m.edsoo.ru/7f41a12c	Математическая игра
ОБЩЕЕ КОЛИЧЕСТВО ЧАСОВ ПО ПРОГРАММЕ		68	6	0		

ПОУРОЧНОЕ ПЛАНИРОВАНИЕ
7 КЛАСС

№ п/п	Тема урока	Количество часов			Электронные цифровые образовательные ресурсы
		Всего	Контрольные работы	Практические работы	
1	Простейшие геометрические объекты	1			Библиотека ЦОК https://m.edsoo.ru/8866b724
2	Многоугольник, ломаная	1			Библиотека ЦОК https://m.edsoo.ru/8866cb6a
3	Смежные и вертикальные углы	1			Библиотека ЦОК https://m.edsoo.ru/8866c5c0
4	Смежные и вертикальные углы	1			Библиотека ЦОК https://m.edsoo.ru/8866c7be
5	Смежные и вертикальные углы	1			
6	Смежные и вертикальные углы	1			
7	Смежные и вертикальные углы	1			
8	Смежные и вертикальные углы	1			
9	Измерение линейных и угловых величин, вычисление отрезков и углов	1			
10	Измерение линейных и угловых величин, вычисление отрезков и углов	1			Библиотека ЦОК https://m.edsoo.ru/8866c3ea
11	Измерение линейных и угловых величин, вычисление отрезков и углов	1			
12	Измерение линейных и угловых величин, вычисление отрезков и углов	1			
13	Периметр и площадь фигур,	1			

	составленных из прямоугольников				
14	Периметр и площадь фигур, составленных из прямоугольников	1			
15	Понятие о равных треугольниках и первичные представления о равных фигурах	1			Библиотека ЦОК https://m.edsoo.ru/8866ce80
16	Три признака равенства треугольников	1			Библиотека ЦОК https://m.edsoo.ru/8866d1fa
17	Три признака равенства треугольников	1			Библиотека ЦОК https://m.edsoo.ru/8866d34e
18	Три признака равенства треугольников	1			Библиотека ЦОК https://m.edsoo.ru/8866e01e
19	Три признака равенства треугольников	1			
20	Три признака равенства треугольников	1			
21	Три признака равенства треугольников	1			Библиотека ЦОК https://m.edsoo.ru/8866e88e
22	Признаки равенства прямоугольных треугольников	1			
23	Признаки равенства прямоугольных треугольников	1			
24	Свойство медианы прямоугольного треугольника, проведённой к гипотенузе	1			Библиотека ЦОК https://m.edsoo.ru/8866e9ec
25	Свойство медианы прямоугольного треугольника, проведённой к гипотенузе	1			
26	Равнобедренные и равносторонние треугольники	1			Библиотека ЦОК https://m.edsoo.ru/8866d6fa

27	Признаки и свойства равнобедренного треугольника	1			Библиотека ЦОК https://m.edsoo.ru/8866d880
28	Признаки и свойства равнобедренного треугольника	1			Библиотека ЦОК https://m.edsoo.ru/8866d880
29	Признаки и свойства равнобедренного треугольника	1			Библиотека ЦОК https://m.edsoo.ru/8866e26c
30	Неравенства в геометрии	1			
31	Неравенства в геометрии	1			Библиотека ЦОК https://m.edsoo.ru/8866e3a2
32	Неравенства в геометрии	1			
33	Неравенства в геометрии	1			
34	Прямоугольный треугольник с углом в 30°	1			Библиотека ЦОК https://m.edsoo.ru/8866eb22
35	Прямоугольный треугольник с углом в 30°	1			
36	Контрольная работа по теме "Треугольники"	1	1		Библиотека ЦОК https://m.edsoo.ru/8866ecbc
37	Параллельные прямые, их свойства	1			Библиотека ЦОК https://m.edsoo.ru/8866ef64
38	Пятый постулат Евклида	1			
39	Накрест лежащие, соответственные и односторонние углы, образованные при пересечении параллельных прямых секущей	1			Библиотека ЦОК https://m.edsoo.ru/8866f086
40	Накрест лежащие, соответственные и односторонние углы, образованные при пересечении параллельных прямых секущей	1			

41	Накрест лежащие, соответственные и односторонние углы, образованные при пересечении параллельных прямых секущей	1			
42	Накрест лежащие, соответственные и односторонние углы, образованные при пересечении параллельных прямых секущей	1			
43	Накрест лежащие, соответственные и односторонние углы, образованные при пересечении параллельных прямых секущей	1			Библиотека ЦОК https://m.edsoo.ru/8866f3b0
44	Признак параллельности прямых через равенство расстояний от точек одной прямой до второй прямой	1			
45	Признак параллельности прямых через равенство расстояний от точек одной прямой до второй прямой	1			
46	Сумма углов треугольника	1			Библиотека ЦОК https://m.edsoo.ru/8866f630
47	Сумма углов треугольника	1			Библиотека ЦОК https://m.edsoo.ru/8866f8ba
48	Внешние углы треугольника	1			Библиотека ЦОК https://m.edsoo.ru/8866fa5e
49	Внешние углы треугольника	1			
50	Контрольная работа по теме "Параллельные прямые, сумма углов треугольника"	1	1		Библиотека ЦОК https://m.edsoo.ru/8866fe6e

51	Окружность, хорды и диаметр, их свойства	1			Библиотека ЦОК https://m.edsoo.ru/88670800
52	Касательная к окружности	1			Библиотека ЦОК https://m.edsoo.ru/88670e9a
53	Окружность, вписанная в угол	1			
54	Окружность, вписанная в угол	1			
55	Понятие о ГМТ, применение в задачах	1			Библиотека ЦОК https://m.edsoo.ru/8867013e
56	Понятие о ГМТ, применение в задачах	1			Библиотека ЦОК https://m.edsoo.ru/88670508
57	Биссектриса и серединный перпендикуляр как геометрические места точек	1			
58	Окружность, описанная около треугольника	1			Библиотека ЦОК https://m.edsoo.ru/88670a62
59	Окружность, описанная около треугольника	1			
60	Окружность, вписанная в треугольник	1			Библиотека ЦОК https://m.edsoo.ru/8867103e
61	Окружность, вписанная в треугольник	1			
62	Простейшие задачи на построение	1			Библиотека ЦОК https://m.edsoo.ru/88671188
63	Простейшие задачи на построение	1			Библиотека ЦОК https://m.edsoo.ru/886712d2
64	Контрольная работа по теме "Окружность и круг. Геометрические построения"	1	1		Библиотека ЦОК https://m.edsoo.ru/88671462
65	Повторение и обобщение знаний	1			Библиотека ЦОК

	основных понятий и методов курса 7 класса				https://m.edsoo.ru/886715b6
66	Итоговая контрольная работа	1	1		Библиотека ЦОК https://m.edsoo.ru/886716ec
67	Повторение и обобщение знаний основных понятий и методов курса 7 класса	1			
68	Повторение и обобщение знаний основных понятий и методов курса 7 класса	1			Библиотека ЦОК https://m.edsoo.ru/886719bc
ОБЩЕЕ КОЛИЧЕСТВО ЧАСОВ ПО ПРОГРАММЕ		68	4	0	

8 КЛАСС

№ п/п	Тема урока	Количество часов			Электронные цифровые образовательные ресурсы
		Всего	Контрольные работы	Практические работы	
1	Параллелограмм, его признаки и свойства	1			Библиотека ЦОК https://m.edsoo.ru/88671af2
2	Параллелограмм, его признаки и свойства	1			Библиотека ЦОК https://m.edsoo.ru/88671ca0
3	Параллелограмм, его признаки и свойства	1			Библиотека ЦОК https://m.edsoo.ru/88671ca0
4	Частные случаи параллелограммов (прямоугольник, ромб, квадрат), их признаки и свойства	1			Библиотека ЦОК https://m.edsoo.ru/88671dea
5	Частные случаи параллелограммов (прямоугольник, ромб, квадрат), их признаки и свойства	1			Библиотека ЦОК https://m.edsoo.ru/88671f20
6	Частные случаи параллелограммов (прямоугольник, ромб, квадрат), их признаки и свойства	1			Библиотека ЦОК https://m.edsoo.ru/8867209c
7	Трапеция	1			Библиотека ЦОК https://m.edsoo.ru/88672358
8	Равнобокая и прямоугольная трапеции	1			Библиотека ЦОК https://m.edsoo.ru/8867252e
9	Равнобокая и прямоугольная трапеции	1			Библиотека ЦОК https://m.edsoo.ru/88672858
10	Метод удвоения медианы	1			Библиотека ЦОК

					https://m.edsoo.ru/88672b14
11	Центральная симметрия	1			Библиотека ЦОК https://m.edsoo.ru/88672b14
12	Контрольная работа по теме "Четырёхугольники"	1	1		Библиотека ЦОК https://m.edsoo.ru/88672c9a
13	Теорема Фалеса и теорема о пропорциональных отрезках	1			Библиотека ЦОК https://m.edsoo.ru/8867337a
14	Средняя линия треугольника	1			Библиотека ЦОК https://m.edsoo.ru/88672e0c
15	Средняя линия треугольника	1			Библиотека ЦОК https://m.edsoo.ru/88672f38
16	Трапеция, её средняя линия	1			Библиотека ЦОК https://m.edsoo.ru/88672358
17	Трапеция, её средняя линия	1			Библиотека ЦОК https://m.edsoo.ru/88673064
18	Пропорциональные отрезки	1			Библиотека ЦОК https://m.edsoo.ru/88673794
19	Пропорциональные отрезки	1			Библиотека ЦОК https://m.edsoo.ru/88673794
20	Центр масс в треугольнике	1			Библиотека ЦОК https://m.edsoo.ru/886738fc
21	Подобные треугольники	1			Библиотека ЦОК https://m.edsoo.ru/88673a78
22	Три признака подобия треугольников	1			Библиотека ЦОК https://m.edsoo.ru/88673bae
23	Три признака подобия треугольников	1			Библиотека ЦОК https://m.edsoo.ru/88673d52
24	Три признака подобия треугольников	1			Библиотека ЦОК https://m.edsoo.ru/8867400e

25	Три признака подобия треугольников	1			
26	Применение подобия при решении практических задач	1			
27	Контрольная работа по теме "Подобные треугольники"	1	1		Библиотека ЦОК https://m.edsoo.ru/8867445a
28	Свойства площадей геометрических фигур	1			Библиотека ЦОК https://m.edsoo.ru/886745fe
29	Формулы для площади треугольника, параллелограмма	1			Библиотека ЦОК https://m.edsoo.ru/88674860
30	Формулы для площади треугольника, параллелограмма	1			Библиотека ЦОК https://m.edsoo.ru/88674a22
31	Формулы для площади треугольника, параллелограмма	1			Библиотека ЦОК https://m.edsoo.ru/88674a22
32	Формулы для площади треугольника, параллелограмма	1			Библиотека ЦОК https://m.edsoo.ru/88675288
33	Формулы для площади треугольника, параллелограмма	1			Библиотека ЦОК https://m.edsoo.ru/8867542c
34	Вычисление площадей сложных фигур	1			Библиотека ЦОК https://m.edsoo.ru/88674e78
35	Площади фигур на клетчатой бумаге	1			Библиотека ЦОК https://m.edsoo.ru/8867473e
36	Площади подобных фигур	1			
37	Площади подобных фигур	1			
38	Задачи с практическим содержанием	1			Библиотека ЦОК https://m.edsoo.ru/88675558
39	Задачи с практическим содержанием	1			Библиотека ЦОК https://m.edsoo.ru/88675684
40	Решение задач с помощью метода	1			Библиотека ЦОК

	вспомогательной площади				https://m.edsoo.ru/88674f90
41	Контрольная работа по теме "Площадь"	1	1		Библиотека ЦОК https://m.edsoo.ru/8867579c
42	Теорема Пифагора и её применение	1			Библиотека ЦОК https://m.edsoo.ru/88675918
43	Теорема Пифагора и её применение	1			Библиотека ЦОК https://m.edsoo.ru/88675918
44	Теорема Пифагора и её применение	1			Библиотека ЦОК https://m.edsoo.ru/88675abc
45	Теорема Пифагора и её применение	1			
46	Теорема Пифагора и её применение	1			
47	Определение тригонометрических функций острого угла прямоугольного треугольника, тригонометрические соотношения в прямоугольном треугольнике	1			Библиотека ЦОК https://m.edsoo.ru/88675d32
48	Основное тригонометрическое тождество	1			Библиотека ЦОК https://m.edsoo.ru/88675f44
49	Основное тригонометрическое тождество	1			
50	Основное тригонометрическое тождество	1			
51	Контрольная работа по теме "Теорема Пифагора и начала тригонометрии"	1	1		Библиотека ЦОК https://m.edsoo.ru/8a1407e8
52	Вписанные и центральные углы, угол между касательной и хордой	1			Библиотека ЦОК https://m.edsoo.ru/8a1415b2
53	Вписанные и центральные углы, угол между касательной и хордой	1			Библиотека ЦОК https://m.edsoo.ru/8a141940
54	Вписанные и центральные углы, угол между касательной и хордой	1			Библиотека ЦОК https://m.edsoo.ru/8a141b34

55	Углы между хордами и секущими	1			
56	Углы между хордами и секущими	1			
57	Вписанные и описанные четырёхугольники, их признаки и свойства	1			Библиотека ЦОК https://m.edsoo.ru/8a140f86
58	Вписанные и описанные четырёхугольники, их признаки и свойства	1			Библиотека ЦОК https://m.edsoo.ru/8a1416d4
59	Вписанные и описанные четырёхугольники, их признаки и свойства	1			Библиотека ЦОК https://m.edsoo.ru/8a1416d4
60	Применение свойств вписанных и описанных четырёхугольников при решении геометрических задач	1			
61	Применение свойств вписанных и описанных четырёхугольников при решении геометрических задач	1			
62	Взаимное расположение двух окружностей, общие касательные	1			Библиотека ЦОК https://m.edsoo.ru/8a1410a8
63	Касание окружностей	1			Библиотека ЦОК https://m.edsoo.ru/8a1410a8
64	Контрольная работа по теме "Углы в окружности. Вписанные и описанные четырёхугольники"	1	1		Библиотека ЦОК https://m.edsoo.ru/8a141c88
65	Повторение основных понятий и методов курсов 7 и 8 классов, обобщение знаний	1			Библиотека ЦОК https://m.edsoo.ru/8a141ddc
66	Повторение основных понятий и методов курсов 7 и 8 классов, обобщение знаний	1			Библиотека ЦОК https://m.edsoo.ru/8a141efe

67	Итоговая контрольная работа	1	1		Библиотека ЦОК https://m.edsoo.ru/8a142368
68	Повторение основных понятий и методов курсов 7 и 8 классов, обобщение знаний	1			Библиотека ЦОК https://m.edsoo.ru/8a1420ac
ОБЩЕЕ КОЛИЧЕСТВО ЧАСОВ ПО ПРОГРАММЕ		68	6	0	

9 КЛАСС

№ п/п	Тема урока	Количество часов			Электронные цифровые образовательные ресурсы
		Всего	Контрольные работы	Практические работы	
1	Определение тригонометрических функций углов от 0° до 180°	1			Библиотека ЦОК https://m.edsoo.ru/8a1424bc
2	Формулы приведения	1			
3	Теорема косинусов	1			Библиотека ЦОК https://m.edsoo.ru/8a14336c
4	Теорема косинусов	1			
5	Теорема косинусов	1			Библиотека ЦОК https://m.edsoo.ru/8a142d5e
6	Теорема синусов	1			Библиотека ЦОК https://m.edsoo.ru/8a142e8a
7	Теорема синусов	1			
8	Теорема синусов	1			
9	Нахождение длин сторон и величин углов треугольников	1			Библиотека ЦОК https://m.edsoo.ru/8a1430b0
10	Решение треугольников	1			Библиотека ЦОК https://m.edsoo.ru/8a142ac0
11	Решение треугольников	1			Библиотека ЦОК https://m.edsoo.ru/8a142ac0
12	Решение треугольников	1			Библиотека ЦОК https://m.edsoo.ru/8a142ac0
13	Решение треугольников	1			Библиотека ЦОК https://m.edsoo.ru/8a142ac0

14	Практическое применение теорем синусов и косинусов	1			Библиотека ЦОК https://m.edsoo.ru/8a142c3c
15	Практическое применение теорем синусов и косинусов	1			
16	Контрольная работа по теме "Решение треугольников"	1	1		Библиотека ЦОК https://m.edsoo.ru/8a14392a
17	Понятие о преобразовании подобия	1			Библиотека ЦОК https://m.edsoo.ru/8a143ab0
18	Соответственные элементы подобных фигур	1			Библиотека ЦОК https://m.edsoo.ru/8a143de4
19	Соответственные элементы подобных фигур	1			
20	Теорема о произведении отрезков хорд, теорема о произведении отрезков секущих, теорема о квадрате касательной	1			Библиотека ЦОК https://m.edsoo.ru/8a14406e
21	Теорема о произведении отрезков хорд, теорема о произведении отрезков секущих, теорема о квадрате касательной	1			Библиотека ЦОК https://m.edsoo.ru/8a1441a4
22	Теорема о произведении отрезков хорд, теорема о произведении отрезков секущих, теорема о квадрате касательной	1			Библиотека ЦОК https://m.edsoo.ru/8a1442da
23	Применение теорем в решении геометрических задач	1			Библиотека ЦОК https://m.edsoo.ru/8a143f06
24	Применение теорем в решении геометрических задач	1			Библиотека ЦОК https://m.edsoo.ru/8a1443fc
25	Применение теорем в решении геометрических задач	1			Библиотека ЦОК https://m.edsoo.ru/8a144578
26	Контрольная работа по теме	1	1		Библиотека ЦОК

	"Преобразование подобия. Метрические соотношения в окружности"				https://m.edsoo.ru/8a1447a8
27	Определение векторов. Физический и геометрический смысл векторов	1			Библиотека ЦОК https://m.edsoo.ru/8a144960
28	Сложение и вычитание векторов, умножение вектора на число	1			Библиотека ЦОК https://m.edsoo.ru/8a144a8c
29	Сложение и вычитание векторов, умножение вектора на число	1			Библиотека ЦОК https://m.edsoo.ru/8a144d52
30	Сложение и вычитание векторов, умножение вектора на число	1			
31	Разложение вектора по двум неколлинеарным векторам	1			
32	Координаты вектора	1			Библиотека ЦОК https://m.edsoo.ru/8a144fbe
33	Скалярное произведение векторов, его применение для нахождения длин и углов	1			Библиотека ЦОК https://m.edsoo.ru/8a14539c
34	Скалярное произведение векторов, его применение для нахождения длин и углов	1			Библиотека ЦОК https://m.edsoo.ru/8a14550e
35	Решение задач с помощью векторов	1			Библиотека ЦОК https://m.edsoo.ru/8a144c3a
36	Решение задач с помощью векторов	1			Библиотека ЦОК https://m.edsoo.ru/8a1458c4
37	Применение векторов для решения задач физики	1			
38	Контрольная работа по теме "Векторы"	1	1		Библиотека ЦОК https://m.edsoo.ru/8a145b08
39	Декартовы координаты точек на плоскости	1			

40	Уравнение прямой	1			Библиотека ЦОК https://m.edsoo.ru/8a145c48
41	Уравнение прямой	1			
42	Уравнение окружности	1			Библиотека ЦОК https://m.edsoo.ru/8a14635a
43	Координаты точек пересечения окружности и прямой	1			Библиотека ЦОК https://m.edsoo.ru/8a146620
44	Метод координат при решении геометрических задач, практических задач	1			
45	Метод координат при решении геометрических задач, практических задач	1			
46	Метод координат при решении геометрических задач, практических задач	1			
47	Контрольная работа по теме "Декартовы координаты на плоскости"	1	1		Библиотека ЦОК https://m.edsoo.ru/8a146e0e
48	Правильные многоугольники, вычисление их элементов	1			Библиотека ЦОК https://m.edsoo.ru/8a146fda
49	Число π . Длина окружности	1			Библиотека ЦОК https://m.edsoo.ru/8a1472c8
50	Число π . Длина окружности	1			Библиотека ЦОК https://m.edsoo.ru/8a14714c
51	Длина дуги окружности	1			
52	Радианная мера угла	1			Библиотека ЦОК https://m.edsoo.ru/8a14714c
53	Площадь круга, сектора, сегмента	1			Библиотека ЦОК

					https://m.edsoo.ru/8a147426
54	Площадь круга, сектора, сегмента	1			Библиотека ЦОК https://m.edsoo.ru/8a147750
55	Площадь круга, сектора, сегмента	1			Библиотека ЦОК https://m.edsoo.ru/8a147750
56	Понятие о движении плоскости	1			Библиотека ЦОК https://m.edsoo.ru/8a147c82
57	Параллельный перенос, поворот	1			Библиотека ЦОК https://m.edsoo.ru/8a147f16
58	Параллельный перенос, поворот	1			Библиотека ЦОК https://m.edsoo.ru/8a147f16
59	Параллельный перенос, поворот	1			
60	Параллельный перенос, поворот	1			
61	Применение движений при решении задач	1			Библиотека ЦОК https://m.edsoo.ru/8a1480e2
62	Контрольная работа по темам "Правильные многоугольники. Окружность. Движения плоскости"	1	1		
63	Повторение, обобщение, систематизация знаний. Измерение геометрических величин. Треугольники	1			Библиотека ЦОК https://m.edsoo.ru/8a148524
64	Повторение, обобщение, систематизация знаний. Параллельные и перпендикулярные прямые	1			Библиотека ЦОК https://m.edsoo.ru/8a148650
65	Повторение, обобщение, систематизация знаний. Окружность и круг. Геометрические построения. Углы в окружности	1			

66	Повторение, обобщение, систематизация знаний. Вписанные и описанные окружности многоугольников	1			
67	Итоговая контрольная работа	1	1		Библиотека ЦОК https://m.edsoo.ru/8a148920
68	Повторение, обобщение, систематизация знаний	1			
ОБЩЕЕ КОЛИЧЕСТВО ЧАСОВ ПО ПРОГРАММЕ		68	6	0	

КОНТРОЛЬНО-ИЗМЕРИТЕЛЬНЫЕ МАТЕРИАЛЫ

7 класс

Контрольная работа. по теме «Треугольники»

Вариант 1

1. Дано: $AO = BO$, $CO = DO$, $CO = 5$ см, $BO = 3$ см, $BD = 4$ см (рис. 2.212).

Найти: Периметр $\triangle CAO$.

2. В равнобедренном треугольнике ABC точки K и M являются серединами боковых сторон AB и BC соответственно. BD – медиана треугольника. Докажите, что $\triangle BKD = \triangle BMD$.

3. Даны неразвернутый угол и отрезок. На сторонах данного угла постройте точки, удаленные от вершины угла на расстояние, равное половине данного отрезка.

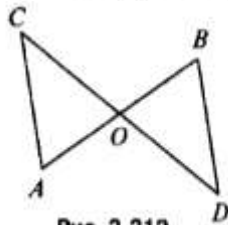


Рис. 2.212

Вариант 2

1. Дано: $AB = CD$, $BC = AD$, $AC = 7$ см, $AD = 6$ см, $AB = 4$ см (рис. 2.213).

Найти: Периметр $\triangle ADC$.

2. В равнобедренном $\triangle ABC$ точки K и M являются серединами боковых сторон AB и BC соответственно. BD – медиана треугольника. Докажите, что $\triangle AKD = \triangle CMD$.

3. Дан неразвернутый угол и отрезок. На биссектрисе данного угла постройте точку, удаленную от вершины угла на расстояние, равное данному отрезку.

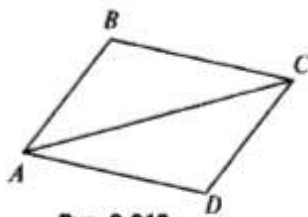


Рис. 2.213

Критерии оценивания:

Оценка «5» - правильно решены 3 задачи
«4» - правильно решены 2 задачи, или правильно решена 1 задача, а при решении двух других задач допущены ошибки
«3» - правильно решена 1 задача
«2» - все задачи решены неправильно

**Контрольная работа
по теме «Параллельные прямые»**

Вариант 1

1. Дано: $a \parallel b$, c – секущая, $\angle 1 + \angle 2 = 102^\circ$ (рис. 3.171).

Найти: Все образовавшиеся углы.

2. Дано: $\angle 1 = \angle 2$, $\angle 3 = 120^\circ$ (рис. 3.172).

Найти: $\angle 4$.

3. Отрезок AD – биссектриса треугольника ABC . Через точку D проведена прямая, параллельная стороне AB и пересекающая сторону AC в точке F . Найдите углы треугольника ADF , если $\angle BAC = 72^\circ$.

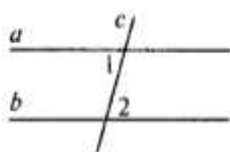


Рис. 3.171

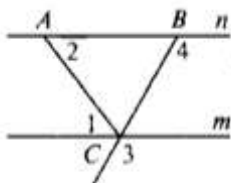


Рис. 3.172

Вариант 2

1. Дано: $a \parallel b$, c – секущая, $\angle 1 - \angle 2 = 102^\circ$ (рис. 3.173).

Найти: Все образовавшиеся углы.

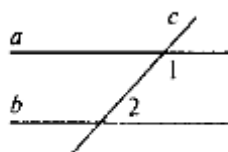


Рис. 3.173

2. Дано: $\angle 1 = \angle 2$, $\angle 3 = 140^\circ$ (рис. 3.174).

Найти: $\angle 4$.

3. Отрезок AK – биссектриса треугольника CAE . Через точку K проведена прямая, параллельная стороне CA и пересекающая сторону AE в точке N . Найдите углы треугольника AKN , если $\angle CAE = 78^\circ$.

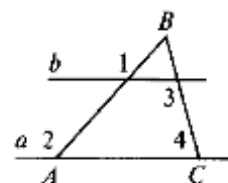


Рис. 3.174

Критерии оценивания:

- Оценка
- «5» - правильно решены 3 задачи
 - «4» - правильно решены 2 задачи, или правильно решена 1 задача, а при решении двух других задач допущены ошибки
 - «3» - правильно решена 1 задача
 - «2» - все задачи решены неправильно

Контрольная работа

по теме «Окружность и круг. Геометрические построения»

Вариант 1

1. AB и AC – отрезки касательных, проведенные к окружности радиусом 9 см. Найдите длины отрезков AC и AO , если $AB = 12$ см.

2. Дано: $\odot AB : \odot BC = 11 : 12$ (рис. 8.178).

Найти: $\angle BCA$, $\angle BAC$.

3. Хорды MN и PK пересекаются в точке E так, что $ME = 12$ см, $NE = 3$ см, $PE = KE$. Найдите PK .

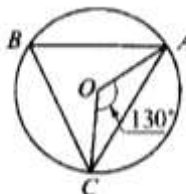


Рис. 8.178

Вариант 2

1. MN и MK – отрезки касательных, проведенные к окружности радиусом 5 см. Найдите MN и MK , если $MO = 13$ см.

2. Дано: $\odot AB : \odot AC = 5 : 3$ (рис. 8.179).

Найти: $\angle BOC$, $\angle ABC$.

3. Хорды AB и CD пересекаются в точке F так, что $AF = 4$ см, $BF = 16$ см, $CF = DF$. Найдите CD .

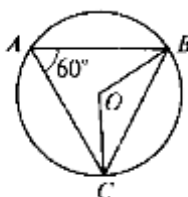


Рис. 8.179

Критерии оценивания:

Оценка «5» - правильно решены 3 задачи
«4» - правильно решены 2 задачи, или правильно решена 1 задача, а при решении двух других задач допущены ошибки
«3» - правильно решена 1 задача
«2» - все задачи решены неправильно

Итоговая контрольная работа
за курс 7 класса

Вариант 1

1. Дано: $BO = DO$, $\angle ABC = 45^\circ$, $\angle BCD = 55^\circ$, $\angle AOC = 100^\circ$
(рис. 5.89).

Найти: $\angle D$.

Доказать: $\triangle ABO = \triangle CDO$.

2. В равнобедренном треугольнике ABC с основанием AC угол B равен 42° .

Найти: Два других угла треугольника ABC .

3. Точки B и D лежат в разных полуплоскостях относительно прямой AC . Треугольники ABC и ADC – равносторонние.

Доказать: $AB \parallel CD$.

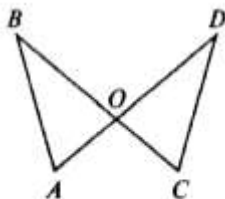


Рис. 5.89

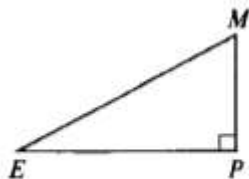


Рис. 5.90

Вариант 2

1. Дано: $AB = CD$, $\angle ABC = 65^\circ$, $\angle ADC = 45^\circ$, $\angle AOC = 110^\circ$
(рис. 5.91).

Найти: $\angle C$.

Доказать: $\triangle ABO = \triangle DCO$.

2. В равнобедренном треугольнике ABC с основанием AC сумма углов A и C равна 156° .

Найти: углы треугольника ABC .

3. Точки B и D лежат в разных полуплоскостях относительно прямой AC . Треугольники ABC и ADC – равнобедренные прямоугольные ($\angle B = \angle D = 90^\circ$).

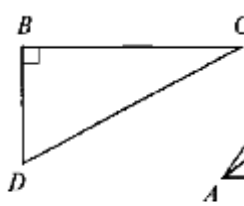


Рис. 5.92

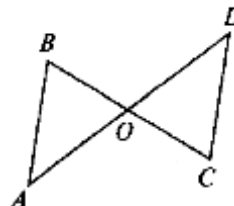


Рис. 5.91

Критерии оценивания:

Оценка «5» - правильно решены 3 задачи
«4» - правильно решены 2 задачи, или правильно решена 1 задача, а при решении двух других задач допущены ошибки
«3» - правильно решена 1 задача
«2» - все задачи решены неправильно

8 класс
Контрольная работа
по теме «Четырехугольники»

Вариант 1

1. Диагонали прямоугольника $ABCD$ пересекаются в точке O , $\angle ABO = 36^\circ$. Найдите угол AOD .
2. Найдите углы прямоугольной трапеции, если один из ее углов равен 20° .
3. Стороны параллелограмма относятся как $1 : 2$, а его периметр равен 30 см. Найдите стороны параллелограмма.
4. В равнобокой трапеции сумма углов при большем основании равна 96° . Найдите углы трапеции.

Вариант 2

1. Диагонали прямоугольника $MNKP$ пересекаются в точке O , $\angle MON = 64^\circ$. Найдите угол OMP .
2. Найдите углы равнобокой трапеции, если один из ее углов на 30° больше второго.
3. Стороны параллелограмма относятся как $3 : 1$, а его периметр равен 40 см. Найдите стороны параллелограмма.
4. В прямоугольной трапеции разность углов при одной из боковых сторон равна 48° . Найдите углы трапеции.

Критерии оценивания:

- Оценка
- «5» - правильно решены 3 задачи
 - «4» - правильно решены 2 задачи, или правильно решена 1 задача, а при решении двух других задач допущены ошибки
 - «3» - правильно решена 1 задача
 - «2» - все задачи решены неправильно

Контрольная работа
по теме «Признаки подобия треугольников»

Вариант 1

1. Дано: $\angle A = \angle B$, $CO = 4$, $DO = 6$, $AO = 5$ (рис. 7.54).
Найти: а) OB ; б) $AC : BD$; в) $S_{AOC} : S_{BOD}$.
2. В треугольнике ABC $AB = 4$ см, $BC = 7$ см, $AC = 6$ см, а в треугольнике MNK $MK = 8$ см, $MN = 12$ см, $KN = 14$ см. Найдите углы треугольника MNK , если $\angle A = 80^\circ$, $\angle B = 60^\circ$.
3. Прямая пересекает стороны треугольника ABC в точках M и K соответственно так, что $MK \parallel AC$, $BM : AM = 1 : 4$. Найдите периметр треугольника BMK , если периметр треугольника ABC равен 25 см.

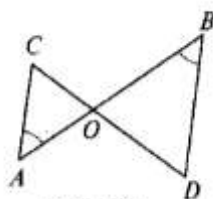


Рис. 7.54

Вариант 2

1. Дано: $PE \parallel NK$, $MP = 8$, $MN = 12$, $ME = 6$ (рис. 7.55).

Найти: а) MK ; б) $PE : NK$; в) $S_{MPE} : S_{MNK}$.

2. В $\triangle ABC$ $AB = 12$ см, $BC = 18$ см, $\angle B = 70^\circ$, а в $\triangle MNK$ $MN = 6$ см, $NK = 9$ см, $\angle N = 70^\circ$. Найдите сторону AC и угол C треугольника ABC , если $MK = 7$ см, $\angle K = 60^\circ$.

3. Отрезки AB и CD пересекаются в точке O так, что $\angle ACO = \angle BDO$, $AO : OB = 2 : 3$. Найдите периметр треугольника ACO , если периметр треугольника BOD равен 21 см.

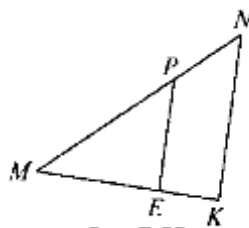


Рис. 7.55

Критерии оценивания:

Оценка «5» - правильно решены 3 задачи
 «4» - правильно решены 2 задачи, или правильно решена 1 задача, а при решении двух других задач допущены ошибки
 «3» - правильно решена 1 задача
 «2» - все задачи решены неправильно

Контрольная работа по теме «Площадь»

Вариант 1

1. Сторона треугольника равна 5 см, а высота, проведенная к ней, в два раза больше стороны. Найдите площадь треугольника.

2. Катеты прямоугольного треугольника равны 6 см и 8 см. Найдите гипотенузу и площадь треугольника.

3. Найдите площадь и периметр ромба, если его диагонали равны 8 см и 10 см.

Вариант 2

1. Сторона треугольника равна 12 см, а высота, проведенная к ней, в три раза меньше высоты. Найдите площадь треугольника.

2. Один из катетов прямоугольного треугольника равен 12 см, а гипотенуза 13 см. Найдите второй катет и площадь треугольника.

3. Диагонали ромба равны 10 см и 12 см. Найдите его площадь и периметр.

Критерии оценивания:

Оценка «5» - правильно решены 3 задачи
 «4» - правильно решены 2 задачи, или правильно решена 1 задача, а при решении двух других задач допущены ошибки
 «3» - правильно решена 1 задача
 «2» - все задачи решены неправильно

Итоговая контрольная работа за курс 8 класса

Вариант 1

1. Боковая сторона равнобедренного треугольника равна 10 см, а его основание 12 см. Найдите его площадь.
2. Биссектриса угла A параллелограмма $ABCD$ делит сторону BC на отрезки BK и KC , равные соответственно 8 см и 4 см. Найдите периметр параллелограмма.
3. В трапеции $ABCD$ углы A и B прямые. Диагональ AC – биссектриса угла A и равна 6 см. Найдите площадь трапеции, если угол CDA равен 60° .
4. В окружности проведены две хорды AB и CD , пересекающиеся в точке K , $KC = 6$ см, $AK = 8$ см, $BK + DK = 16$ см. Найдите длины BK и DK .

Вариант 2

1. Боковая сторона равнобедренного треугольника равна 13 см, а его медиана, проведенная к основанию, равна 5 см. Найдите площадь и периметр треугольника.
2. Диагонали ромба равны 8 см и 6 см. Найдите периметр и площадь ромба.
3. В равнобедренной трапеции $ABCD$ диагональ AC перпендикулярна боковой стороне CD . Найдите площадь трапеции, если угол CAD равен 30° , $AD = 12$ см.
4. В окружности проведены две хорды AB и CD , пересекающиеся в точке M , $MB = 10$ см, $AM = 12$ см, $DC = 23$ см. Найдите длины CM и DM .

Критерии оценивания:

- Оценка
- «5» - правильно решены 3 задачи
 - «4» - правильно решены 2 задачи, или правильно решена 1 задача, а при решении двух других задач допущены ошибки
 - «3» - правильно решена 1 задача
 - «2» - все задачи решены неправильно

9 класс

Контрольная работа по теме «Преобразование подобия. Метрические соотношения в окружности»

Вариант 1

1. Найдите площадь круга и длину ограничивающей его окружности, если сторона правильного треугольника, вписанного в него, равна $5\sqrt{3}$ см.
2. Вычислите длину дуги окружности с радиусом 4 см, если ее градусная мера равна 120° . Чему равна площадь соответствующего данной дуге кругового сектора?
3. Периметр правильного треугольника, вписанного в окружность, равен $6\sqrt{3}$ дм. Найдите периметр правильного шестиугольника, описанного около той же окружности.

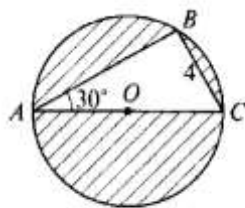


Рис. 12.55

Вариант 2

1. Найдите площадь круга и длину ограничивающей его окружности, если сторона квадрата, описанного около него, равна 6 см.

2. Вычислите длину дуги окружности с радиусом 10 см, если ее градусная мера равна 150° . Чему равна площадь соответствующего данной дуге кругового сектора?

3. Периметр квадрата, описанного около окружности, равен 16 дм. Найдите периметр правильного пятиугольника, вписанного в эту же окружность.

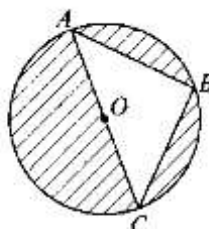


Рис. 12.56

Критерии оценивания:

Оценка «5» - правильно решены 3 задачи
 «4» - правильно решены 2 задачи, или правильно решена 1 задача, а при решении двух других задач допущены ошибки
 «3» - правильно решена 1 задача
 «2» - все задачи решены неправильно

Контрольная работа по теме «Векторы»

Вариант 1

1. Начертите два неколлинеарных вектора \vec{a} и \vec{b} . Постройте векторы, равные: а) $\frac{1}{2}\vec{a} + 3\vec{b}$; б) $2\vec{b} - \vec{a}$.

2. На стороне BC ромба ABCD лежит точка K так, что $BK = KC$, O – точка пересечения диагоналей. Выразите векторы \vec{AO} , \vec{AK} , \vec{KD} через векторы $\vec{a} = \vec{AB}$ и $\vec{b} = \vec{AD}$.

3. В равнобедренной трапеции высота делит большее основание на отрезки, равные 5 см и 12 см. Найдите среднюю линию трапеции.

Вариант 2

1. Начертите два неколлинеарных вектора \vec{m} и \vec{n} . Постройте векторы, равные: а) $\frac{1}{3}\vec{m} + 2\vec{n}$; б) $3\vec{n} - \vec{m}$.

2. На стороне CD квадрата $ABCD$ лежит точка P так, что $CP = PD$, O – точка пересечения диагоналей. Выразите векторы \vec{BO} , \vec{BP} , \vec{PA} через векторы $\vec{x} = \vec{BA}$ и $\vec{y} = \vec{BC}$.

3. В равнобедренной трапеции один из углов равен 60° , боковая сторона равна 8 см, а меньшее основание – 7 см. Найдите среднюю линию трапеции.

Критерии оценивания:

Оценка «5» - правильно решены 3 задачи
 «4» - правильно решены 2 задачи, или правильно решена 1 задача, а при решении двух других задач допущены ошибки
 «3» - правильно решена 1 задача
 «2» - все задачи решены неправильно

Контрольная работа по теме «Декартовы координаты на плоскости»

Вариант 1

1. Найдите координаты и длину вектора \vec{a} , если

$$\vec{a} = \frac{1}{3}\vec{m} - \vec{n}, \vec{m}\{-3; 6\}, \vec{n}\{2; -2\}.$$

2. Напишите уравнение окружности с центром в точке $A(-3; 2)$, проходящей через точку $B(0; -2)$.

3. Треугольник MNK задан координатами своих вершин: $M(-6; 1)$, $N(2; 4)$, $K(2; -2)$.

- а) Докажите, что $\triangle MNK$ – равнобедренный.
 б) Найдите высоту, проведенную из вершины M .

Вариант 2

1. Найдите координаты и длину вектора \vec{b} , если

$$\vec{b} = \frac{1}{2}\vec{c} - \vec{d}, \vec{c}\{6; -2\}, \vec{d}\{1; -2\}.$$

2. Напишите уравнение окружности с центром в точке $C(2; 1)$, проходящей через точку $D(5; 5)$.

3. Треугольник CDE задан координатами своих вершин: $C(2; 2)$, $D(6; 5)$, $E(5; -2)$.

- а) Докажите, что $\triangle CDE$ – равнобедренный.
 б) Найдите биссектрису, проведенную из вершины C .

Критерии оценивания:

Оценка «5» - правильно решены 3 задачи
 «4» - правильно решены 2 задачи, или правильно решена 1 задача, а при решении двух других задач допущены ошибки
 «3» - правильно решена 1 задача
 «2» - все задачи решены неправильно

**Итоговая контрольная работа
за курс 7-9 класс**

Вариант 1

Часть I

При выполнении заданий 1–5 выберите верный ответ.

1. Треугольник со сторонами 5, 9, 15:
 - а) остроугольный;
 - б) тупоугольный;
 - в) прямоугольный;
 - г) такого треугольника не существует.
2. Если одна из сторон треугольника на 3 см меньше другой, высота делит третью сторону на отрезки 5 см и 10 см, то периметр треугольника равен:
 - а) 25 см
 - б) 40 см;
 - в) 32 см
 - г) 20 см.
3. Если один из углов ромба равен 60° , а диагональ, проведенная из вершины этого угла, равна $4\sqrt{3}$ см, то периметр ромба равен:
 - а) 16 см;
 - б) 8 см;
 - в) 12 см;
 - г) 24 см.
4. Величина одного из углов треугольника равна 20° . Найдите величину острого угла между биссектрисами двух других углов треугольника.
 - а) 84° ;
 - б) 92° ;
 - в) 80° ;
 - г) 87° .
5. В треугольнике ABC сторона $a = 7$, сторона $b = 8$, сторона $c = 5$. Вычислите $\angle A$.
 - а) 120° ;
 - б) 45° ;
 - в) 30° ;
 - г) 60° .

Часть II

При выполнении заданий 6–10 запишите подробное решение.

6. В равнобедренном треугольнике боковая сторона делится точкой касания со вписанной окружностью в отношении 8 : 5, считая от вершины, лежащей против основания. Найдите основание треугольника, если радиус вписанной окружности равен 10.
7. В треугольнике BCE $\angle C = 60^\circ$, $CE : BC = 3 : 1$. Отрезок CK – биссектриса треугольника. Найдите KE , если радиус описанной около треугольника окружности равен $8\sqrt{3}$.
8. Найдите площадь треугольника KMP , если сторона KP равна 5, медиана PO равна $3\sqrt{2}$, $\angle KOP = 135^\circ$.
9. Диагонали равнобедренной трапеции перпендикулярны. Найдите площадь трапеции, если ее средняя линия равна 5.
10. Окружность, центр которой лежит на гипотенузе AB прямоугольного треугольника ABC , касается катетов AC и BC соответственно в точках E и D . Найдите величину угла ABC (в градусах), если известно, что $AE = 1$, $BD = 3$.

Вариант 2

Часть I

При выполнении заданий 1–5 выберите верный ответ.

1. Треугольник со сторонами 15, 9, 12:
 - а) остроугольный;
 - б) тупоугольный;
 - в) прямоугольный;
 - г) такого треугольника не существует.
2. Если сходственные стороны подобных треугольников равны 2 см и 5 см, площадь первого треугольника равна 8 см^2 , то площадь второго треугольника равна:
 - а) 50 см^2 ;
 - б) 40 см^2 ;
 - в) 60 см^2 ;
 - г) 20 см^2 .
3. Если в равнобедренном треугольнике длина основания равна 12 см, а его периметр равен 32 см, то радиус окружности, вписанной в треугольник, равен:
 - а) 4 см;
 - б) 3 см;
 - в) 6 см;
 - г) 5 см.
4. В прямоугольном треугольнике точка касания вписанной окружности делит гипотенузу на отрезки 5 см и 12 см. Найдите катеты треугольника.
 - а) 12 см и 16 см;
 - б) 7 см и 11 см;
 - в) 10 см и 13 см;
 - г) 8 см и 15 см.
5. Стороны прямоугольника равны a и k . Найдите радиус окружности, описанной около этого прямоугольника.
 - а) $\frac{a^2}{k}$;
 - б) $\frac{k^2}{a}$;
 - в) $\frac{1}{2}\sqrt{a^2 + k^2}$;
 - г) $\sqrt{a^2 + k^2}$.

Часть II

При выполнении заданий 6–10 запишите подробное решение.

6. Окружность с центром O , вписанная в равнобедренный треугольник ABC с основанием AC , касается стороны BC в точке K , причем $CK : BK = 5 : 8$. Найдите площадь треугольника, если его периметр равен 72.
7. Около треугольника ABC описана окружность. Медиана треугольника AM продлена до пересечения с окружностью в точке K . Найдите сторону AC , если $AM = 18$, $MK = 8$, $BK = 10$.
8. Найдите основание равнобедренного треугольника, если угол при основании равен 30° , а взятая внутри треугольника

точка находится на одинаковом расстоянии, равном 3, от боковых сторон и на расстоянии $2\sqrt{3}$ от основания.

9. Пусть M – точка пересечения диагоналей выпуклого четырехугольника $ABCD$, в котором стороны AB , AD и BC равны между собой. Найдите угол CMD (в градусах), если известно, что $DM = MC$, а угол CAB не равен углу DBA .

10. На боковой стороне BC равнобедренного треугольника ABC как на диаметре построена окружность, пересекающая основание этого треугольника в точке D . Найдите квадрат расстояния от вершины A до центра окружности, если $AD = \sqrt{3}$, а угол ABC равен 120° .

Критерии оценивания:

Оценка «5» - правильно решены 3 задачи
«4» - правильно решены 2 задачи, или правильно решена 1 задача, а при решении двух других задач допущены ошибки
«3» - правильно решена 1 задача
«2» - все задачи решены неправильно

УЧЕБНО-МЕТОДИЧЕСКОЕ ОБЕСПЕЧЕНИЕ УЧЕБНОГО ПРОЦЕССА

ОБЯЗАТЕЛЬНЫЕ УЧЕБНЫЕ МАТЕРИАЛЫ ДЛЯ УЧЕНИКА

1. Геометрия 7-9 :учебник/автор: Л.С. Атанасян, В.Ф. Бутузов, С.Б. Кодомцев, Просвещение, 2013-2015 г.
2. Дидактические материалы по геометрии 7-9 класс. Авторы: Л.С. Атанасян, В.Ф. Бутузов, Просвещение, 2016 г.

МЕТОДИЧЕСКИЕ МАТЕРИАЛЫ ДЛЯ УЧИТЕЛЯ

1. Геометрия 7-9 :учебник/автор: Л.С. Атанасян, В.Ф. Бутузов, С.Б. Кодомцев, Просвещение, 2013-2015 г.
2. Примерная программа общеобразовательных учреждений по геометрии 7–9 классы, к учебному комплексу для 7-9 классов (авторы Л.С. Атанасян, В.Ф. Бутузов, С.Б. Кодомцев,– М: «Просвещение», 2015. – с. 22-26).
3. Дидактические материалы по геометрии 7-9 класс. Авторы: Л.С. Атанасян, В.Ф. Бутузов, Просвещение, 2016 г.

ЦИФРОВЫЕ ОБРАЗОВАТЕЛЬНЫЕ РЕСУРСЫ И РЕСУРСЫ СЕТИ ИНТЕРНЕТ

- <https://m.edsoo.ru>
- <https://uchi.ru>
- <https://foxford.ru>